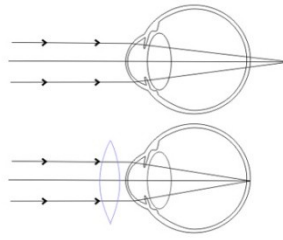
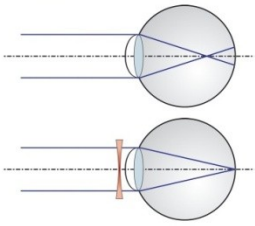


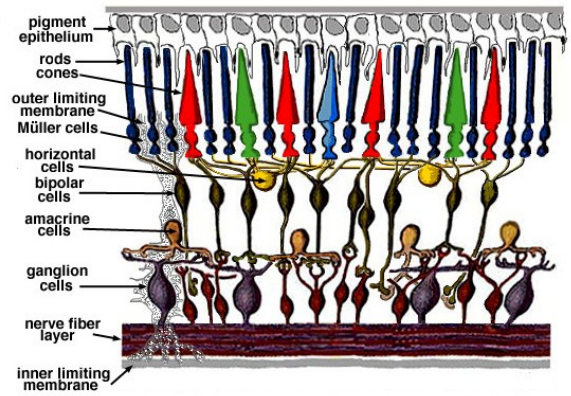
OPISZ WADY WZROKU I ICH KORYGOWANIE



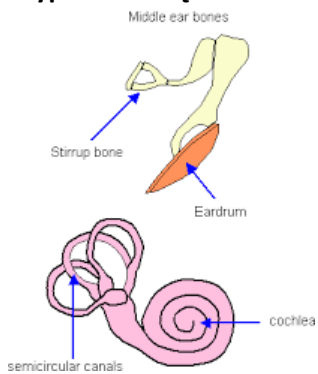
PODPISZ ROZMIESZCZENIE KUBKÓW SMAKOWYCH



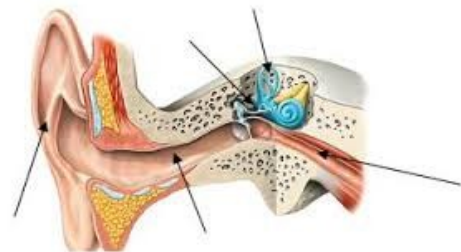
Czego dotyczy poniższy schemat-opisz występujące tam wda rodzaje komórek



Narząd w którym występują poniższe kości to.....
Są to :.....
Wypisz ich rolę:.....



Opisz poniższy schemat i wymień rolę poszczególnych elementów:



Odszukaj receptory skóry i opisz jak działają:

